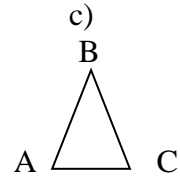
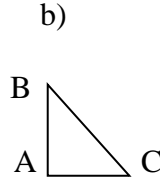
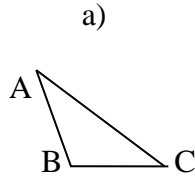


IV sinif
Riyaziyyatdan IV bölmə üzrə
kiçik summativ qiymətləndirmə

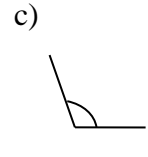
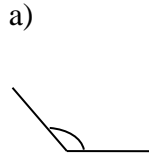
Adı, soyadı _____

Tarix _____

1. Hansı şəkildə $\triangle ABC$ düzbucaqlı üçbucaqdır?



2. Hansı bucağın ölçüsü 120° -dən çoxdur?



3. 30° -li bucaq düz bucaqdan nə qədər kiçikdir?

a) 90°

b) 120°

c) 60°

4. “Qarşı tərəfləri bərabər və paraleldir, bütün bucaqları düz bucaqdır” fikri hansı fiqura aiddir?

a) romb

b) paraleloqram

c) düzbucaqlı

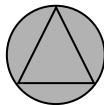
5. Saat 21:10-dur. Bu zaman saatin əqrəbləri hansı bucağı əmələ gətirir?

a) açıq bucaq

b) kor bucaq

c) düz bucaq

6. Dairənin daxilinə çəkilmiş üçbucağın tərəfləri haqqında deyilmiş fikirlərdən hansı doğrudur?

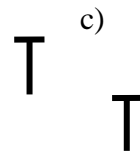
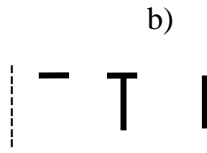


a) dairənin radiusu üçbucağın bir tərəfidir.

b) üçbucağın bütün tərəfləri çevrənin diametridir.

c) dairənin vətərləri üçbucağın tərəfləridir.

7. Hansı şəkil **T** hərfinin dönmə hərəkətinə uyğundur?



8. Tərəfi 7 sm olan bərabərtərəfli üçbucağın perimetri nə qədərdir?

a) 14 sm

b) 10 sm

c) 21 sm

9. Düzbucaqlının eni 4 sm, uzunluğu enindən 2 dəfə böyükdür. Bu düzbucaqlının sahəsi nə qədərdir?

a) 16 sm^2

b) 32 sm^2

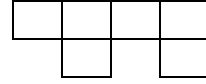
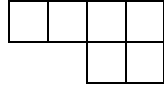
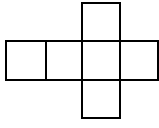
c) 24 sm^2

10. Kubun açılış şəklil hansı bənddə doğru verilmişdir?

a)

b)

c)



11. Eni 20 sm, uzunluğu, 30 sm olan düzbucaqlının ölçülərini necə dəyişsən, onun sahəsi dəyişər?

a) 15 x 25 sm

b) 12 x 50 sm

c) 24 x 25 sm

12. Sahəsi 120 m^2 olan düzbucaqlı formalı bağçanın uzunluğu 8 metrdir. Bu bağın eni neçə metrdir?

a) 10 m

b) 12 m

c) 15 m

13. Tərəfi 5 mm olan kvadrat 1: 2000 miqyası ilə çəkilmiş meydançanı göstərir. Meydançanın real ölçüsü nə qədərdir?

a) 5 m

b) 5 sm

c) 5 mm

14. Bir üzü kvadrat, üç üzü isə üçbucaq formasında olan fəza fiquru hansıdır?

a) übucaqlı prizma

b) kvadrat prizma

c) üçbucaqlı

Düzgün cavabların sayı _____ qiymət _____

IV sinif

Riyaziyyatdan V bölmə üzrə kiçik summativ qiymətləndirmə

Adı, soyadı _____

Tarix _____

- $c \cdot c = 8100$ olarsa, c -nin qiyməti neçədir?
a) 90 b) 81 c) 900
- $36 \cdot 54$ hasilinə uyğun ifadə hansı bənddə doğru verilməyib?
a) $12 \cdot 3 \cdot 9 \cdot 6$ b) $(50 + 4) \cdot 4 \cdot 9$ c) $(30 + 50) \cdot 4$
- Aralarındakı məsafə 291 km olan iki kənddən eyni zamanda qarşı-qarşıya velosipedçi və avtomobil yola düşdü və onlar 3 saatdan sonra görüşdülər. Velosipedçinin sürəti saatda 12 km olarsa, avtomobilin sürətini tapın.
a) 36 b) 85 c) 255
- Səməd hər gün işə avtobusla gedir. Gediş haqqı 15 qəpik olan avtobusla Səməd 24 gün işə gedib qayıtmaq üçün nə qədər gediş haqqı ödəməlidir?
a) 7 manat 20 qəpik b) 2 manat 40 qəpik c) 3 manat 60 qəpik
- Dayanacaqda 500 avtomobil var, minik avtomobillərinin sayı yük avtomobillərinin sayından 24 dəfə çoxdur. Dayanacaqda neçə minik avtomobili var?
a) 480 b) 20 c) 400
- Ülviyyə kompüterdə həftədə 136 səhifə mətn yığır. Bir ildə (52 həftə) Ülviyyə təxminən neçə səhifə mətn yığar?
a) 7000 b) 7072 c) 7082
- Hansı hasilin qiyməti 5000 ilə 8000 arasındadır?
a) 225×12 b) 356×22 c) 654×45
- Yarışda iştirak edən 864 nəfər idmançını hər birində eyni sayda olmaqla 24 oteldə yerləşdirdilər. Hər oteldə neçə idmançı oldu?
a) 26 b) 36 c) 46
- Toğrulun 965 manat pulu var idi. O, 180 manata palto və 220 manatdan bir neçə kostyum aldı. Onun 125 manat pulu qaldı. Toğrul neçə kostyum aldı?
a) 5 b) 4 c) 3
- Qisməti ikirəqəmli olan bölmə əməli hansıdır?
a) $18900 : 365$ b) $4104 : 456$ c) $15552 : 32$
- 5535 l südü 45 litrlik bidonlarla zavoda yollamaq üçün fermerə neçə bidon lazımdır?
a) 120 b) 122 c) 123
- Bölünən 4536, qismət isə 324-dür. Bölən neçədir?
a) 24 b) 14 c) 41

13. Uzunluđu 2 km olan qaçış zolađının üzərində hər 20 metrdən bir işarə çəkilmişdir. Finişdəki işarə neçəncidir?

a) 10

b) 11

c) 9

14. 1 ton 950 kq meyvə hər birində eyni miqdarda olmaqla maşınlara yükləndi. Bir maşına 650 kq meyvə yüklənərsə, neçə maşın lazımdır?

a) 5

b) 4

c) 3

15. $\square : 39 = 14$ qalıqlı bölmə əməlinə bölən 39, qismət isə 14-dür. Bölünən ən çoxu neçə ola bilər?

Düzgün cavabların sayı _____ qiymət _____